



# 科学地理オリンピック日本選手権 兼 国際地理オリンピック選抜大会

2017年1月7日実施の試験で使われた問題の一部です。

写真等の著作権からすべてを公開することはできません。ご了承ください。

# マルチメディアテスト

- ▶ スライドに投影される問題をよくみて答えよ。
- ▶ すべて四者択一問題。
  - ①、②、③、④のうちいずれか1つを選べ。
- ▶ 問題のスライドはすべて60秒で変わる。

# MULTIMEDIA TEST

- ▶ Look at the PowerPoint slides and read the questions carefully.
- ▶ Every question is multiple-choice.  
Select ONE correct answer from ①, ② ③ or ④.
- ▶ We will give you 60 seconds for a question.

Good luck!

問6 次の写真はある世界遺産で撮影されたものである。撮影された場所はどこか。

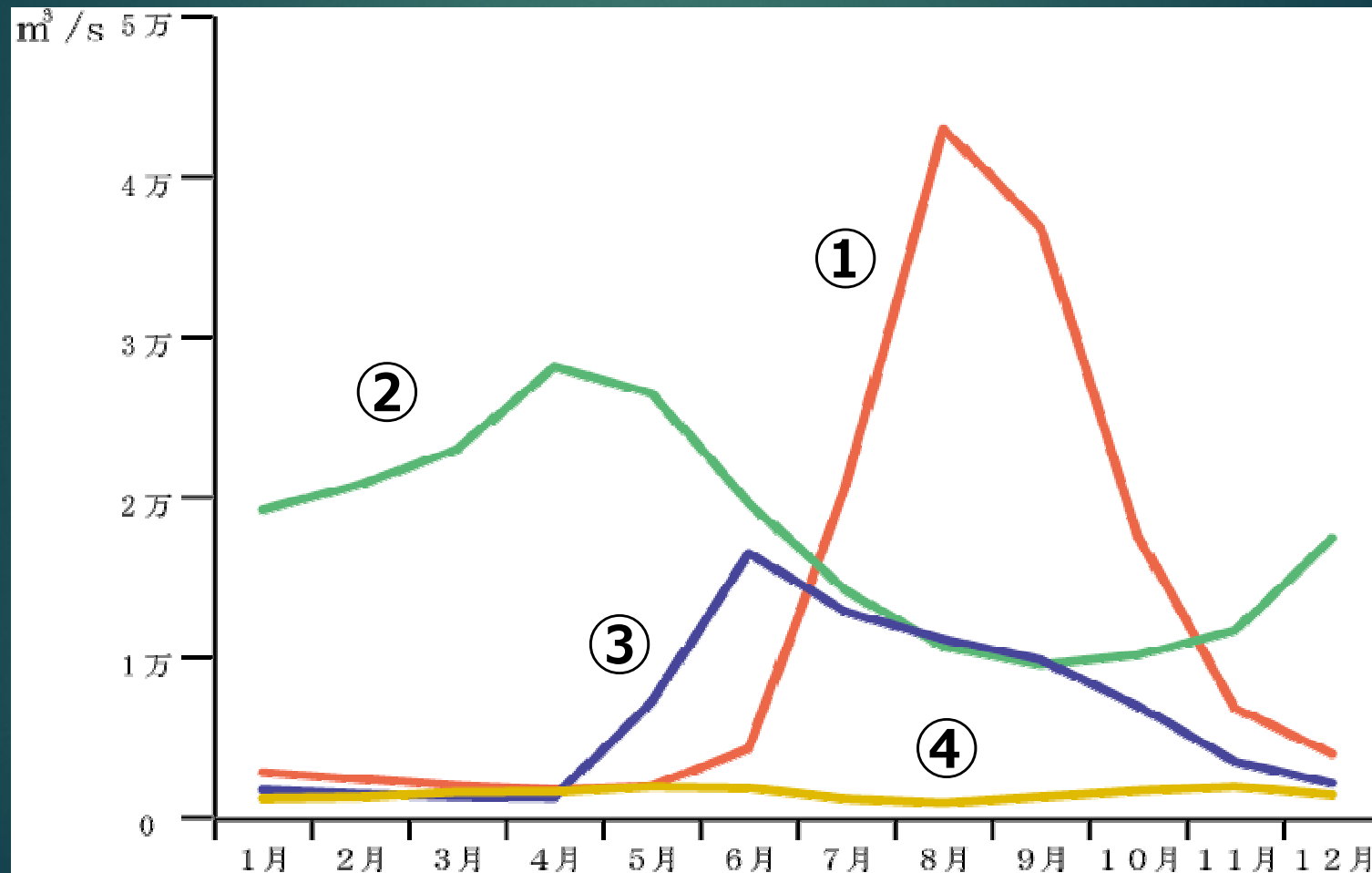


- ①  $42^{\circ} 53' N$        $8^{\circ} 32' E$
- ②  $43^{\circ} 20' N$        $17^{\circ} 48' E$
- ③  $43^{\circ} 18' N$        $68^{\circ} 16' E$
- ④  $40^{\circ} 28' N$        $140^{\circ} 07' E$



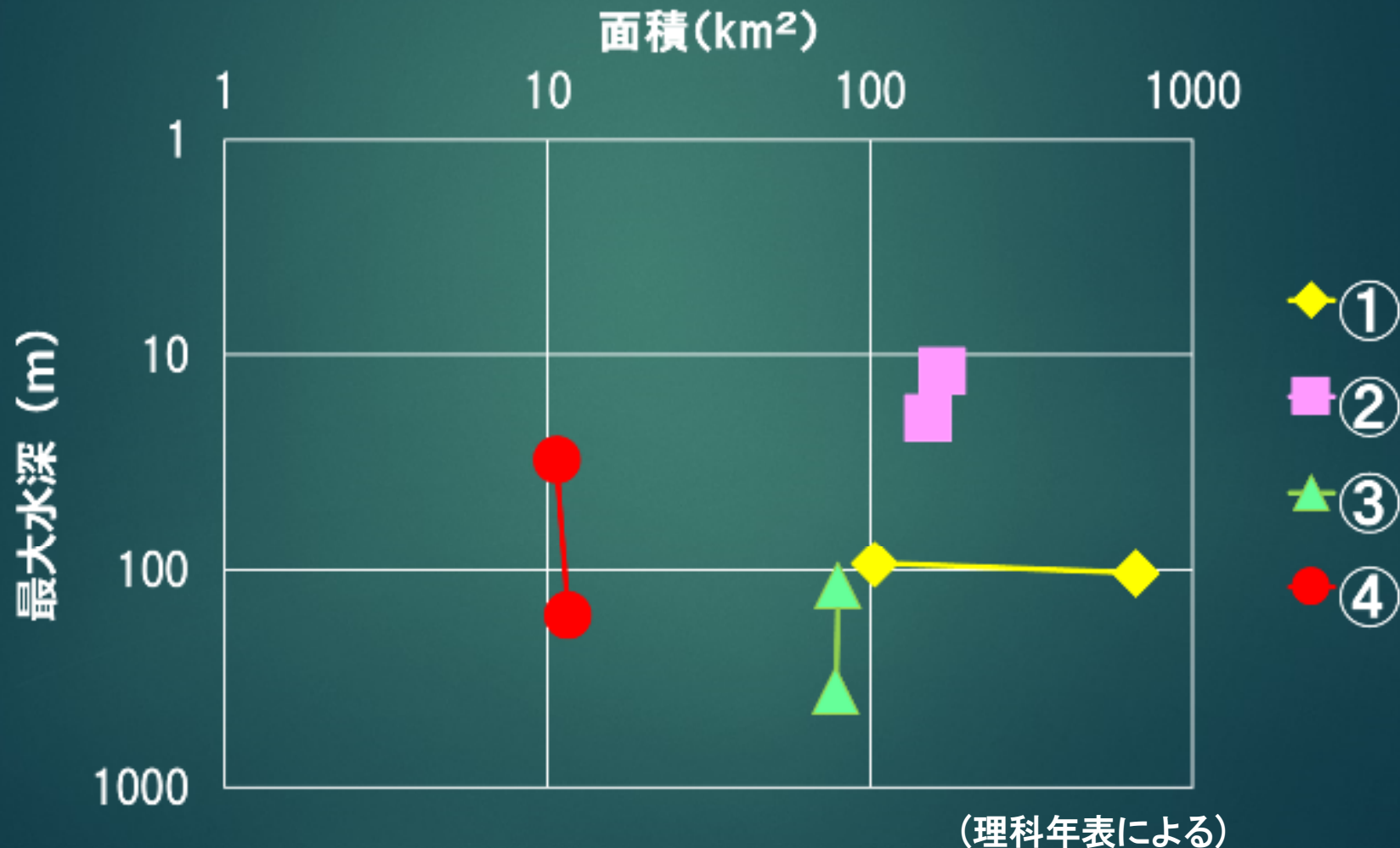


問10 次の図は、ガンジス川(24°48'N,87°56'E), ポー川(44°53'N,11°36'E), ミシシッピ川(32°20'N,90°53'W), ユーコン川(61°56'N,162°52'W)のいずれかの月別平均流量を示している。ユーコン川はどれか。なお()内は測定地の緯度・経度である。



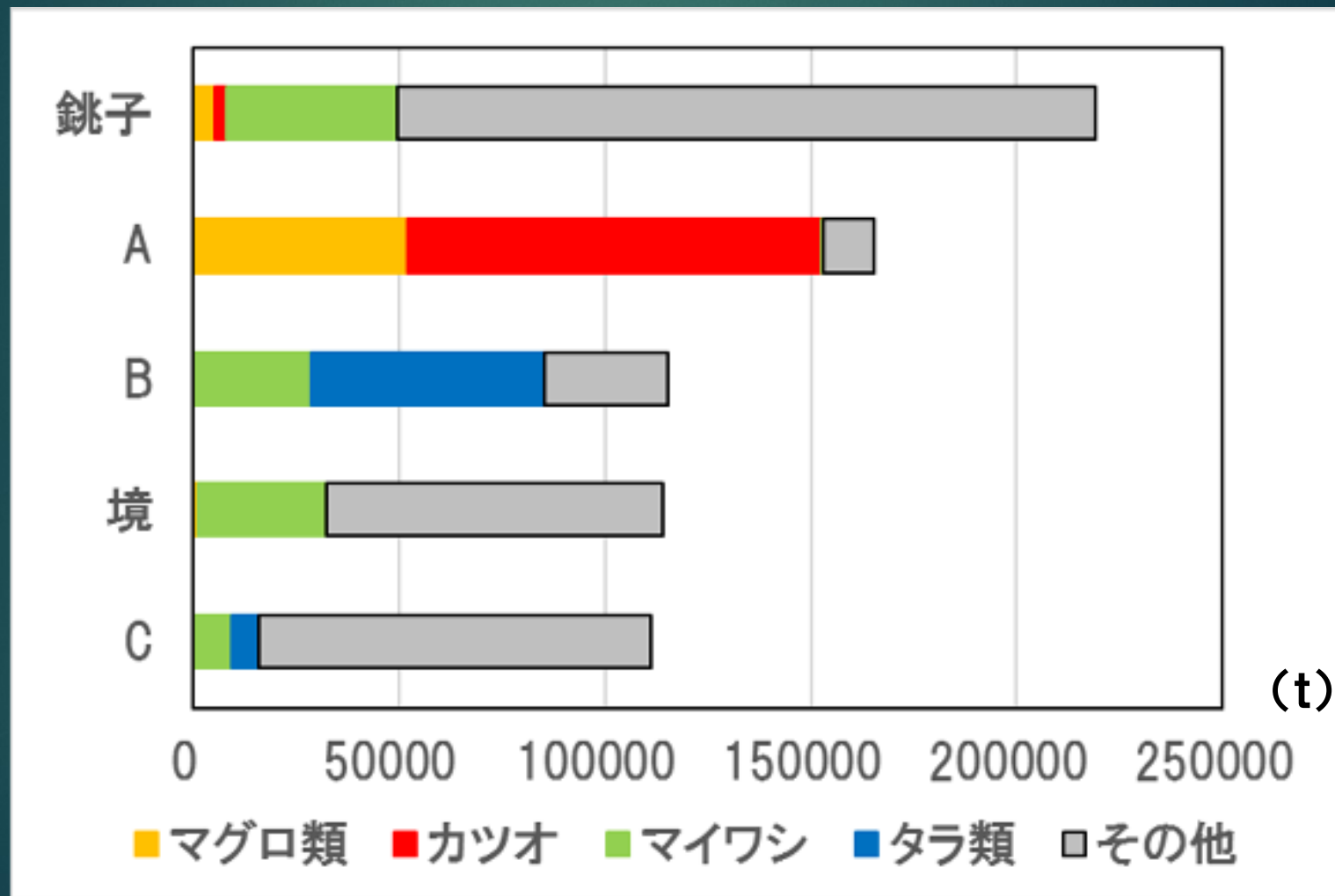
(GRDCデータにより作成)

問13 日本の湖沼を成因別に、海跡湖・カルデラ湖・堰止め湖・断層湖の4つに分けた。次の図はそれぞれの面積上位2つを選び、面積と最大水深を示したものである。カルデラ湖はどれか。



問15 表は、漁港別上場水揚げ量(2014年)を示している。「A」に該当する漁港はどれか。

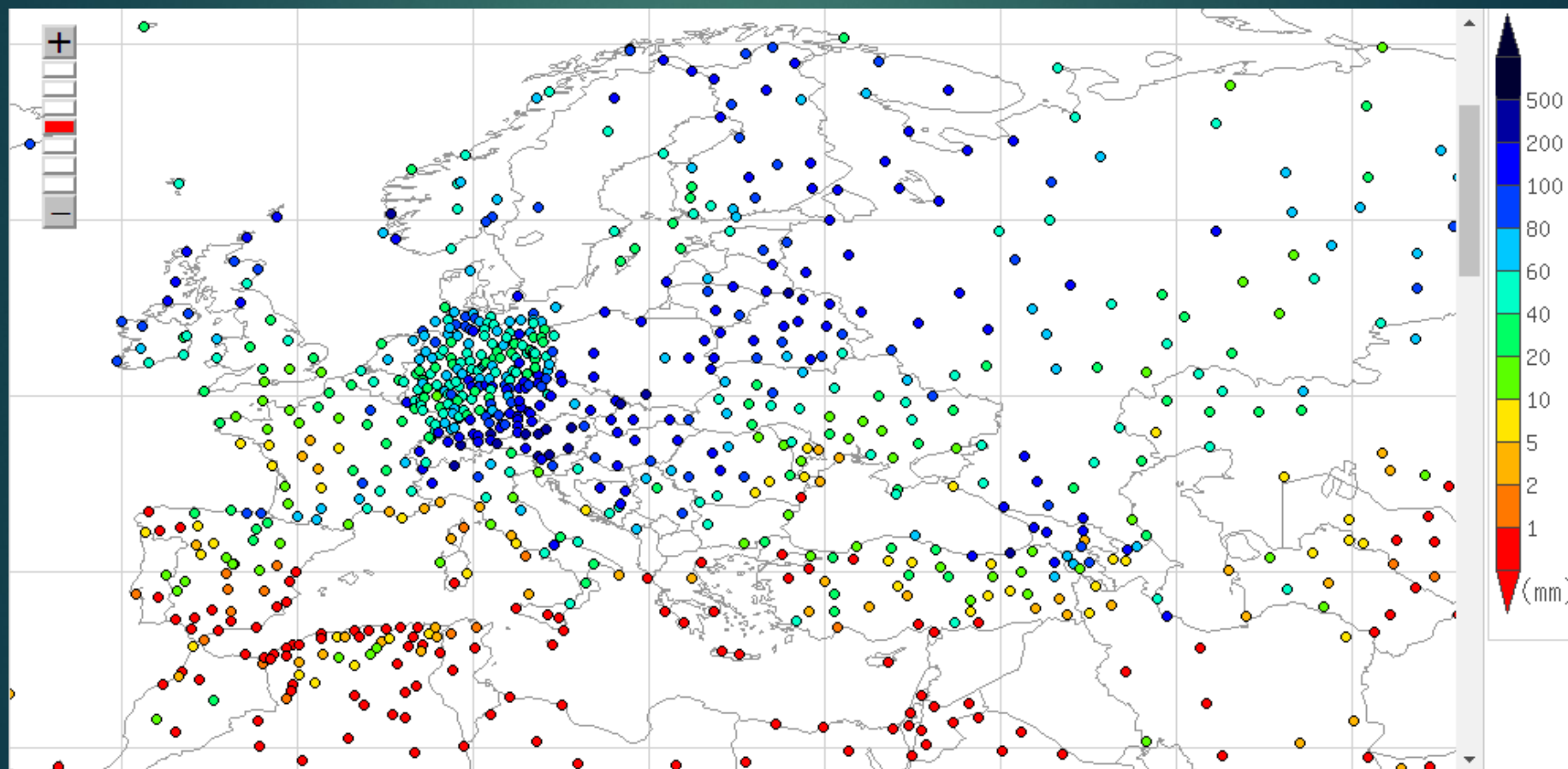
- ①釧路 ②八戸 ③枕崎 ④焼津



(2015年産地水産物流通調査による)

問22 ある月の降水量の分布を示している。  
何月のものか。

① 1月      ② 4月      ③ 7月      ④ 10月



(気象庁HPによる)



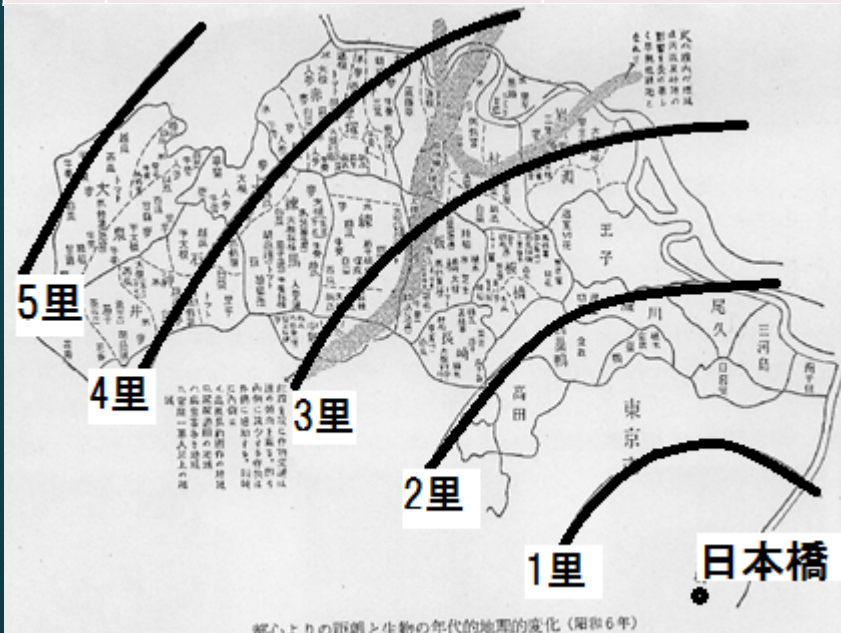
問24 次の表はアメリカ合衆国，韓国，スペイン，ドイツの  
入国観光客数，観光収入，海外旅行者数，観光支出(2014年)を示している。**スペイン**はどれか？

	入国観光客数 (千人)	観光収入 (百万ドル)	海外旅行者数 (千人)	観光支出 (百万ドル)
①	75,011	320,757	68,303	145,768
②	64,995	65,100	11,783	17,969
③	32,999	55,924	83,001	106,603
④	14,202	23,008	19,451	55,383

(World developindicators 2016による)

問25 次の図は昭和6年ごろの東京近郊における都心からの距離と農作物の関係を示している。各圏域における主な農作物として正しいと考えられるものはどれか？

	2里以内	2里から3里	3里から4里	4里から5里
①	干大根・甘藷	トマト・キュウリ	盆栽・切花	ゴボウ・ナス
②	盆栽・切花	ゴボウ・ナス	干大根・甘藷	トマト・キュウリ
③	盆栽・切花	トマト・キュウリ	ゴボウ・ナス	干大根・甘藷
④	トマト・キュウリ	干大根・甘藷	ゴボウ・ナス	盆栽・切花



(青鹿四郎『農業経済地理』による)

問37 写真のような地形はどのようにしてできたか。



- ① 溶岩が冷やされてできる
- ② 溶岩が堆積してできる
- ③ 石灰岩が堆積してできる
- ④ 石灰岩が溶食されてできる

問38 図のような状況がみられるとき，商圈分岐点はA市から何kmの地点になるか。なお，それぞれの市の商圈は人口に比例し，距離の2乗に反比例するものとする。

① 12km

② 18km

③ 24km

④ 28.8km





Q50 Through which city flows the same river as through Belgrade?

